



SERVICES CULTURE ÉDITIONS
RESSOURCES POUR
L'ÉDUCATION NATIONALE

**Ce document a été numérisé par le CRDP de Clermont-Ferrand
pour la
Base Nationale des Sujets d'Examens de l'enseignement professionnel**

Ce fichier numérique ne peut être reproduit, représenté, adapté ou traduit sans autorisation.

DANS CE CADRE	Académie :	Session :
	Examen :	Série :
	Spécialité/option :	Repère de l'épreuve :
	Epreuve/sous épreuve :	
	NOM :	
	(en majuscule, suivi s'il y a lieu, du nom d'épouse)	
NE RIEN ÉCRIRE	Prénoms :	N° du candidat <input type="text"/>
	Né(e) le :	(le numéro est celui qui figure sur la convocation ou liste d'appel)
	Appréciation du correcteur	
	Note : <input type="text"/>	

Il est interdit aux candidats de signer leur composition ou d'y mettre un signe quelconque pouvant indiquer sa provenance.

CAP FLEURISTE

Épreuve EP1

Pratique professionnelle en Atelier de Production

BOTANIQUE

DOSSIER 1 B
À Rendre

SESSION 2012

Durée : 5 heures 45

Botanique et Technologie Professionnelle : 90 Mn.

(Dossiers 1B et 1A).

Coefficient : 11

L'usage de la calculatrice et du dictionnaire est interdit

Dès que le sujet vous est remis, assurez-vous qu'il est complet.

Le sujet se compose de 5 pages, numérotées de 1/5 à 5/5.

EXAMEN : C.A.P. FLEURISTE	Code :	Session 2012	SUJET DOSSIER 1B
ÉPREUVE : EP1 Pratique professionnelle en atelier de production (Botanique)	Durée : 5h45	Coefficient : 11	Page : 1/5

NE RIEN ÉCRIRE DANS CETTE PARTIE


BOTANIQUE (12 points)

DOSSIER 1 B
À rendre

I. LES TISSUS (2,5 points)

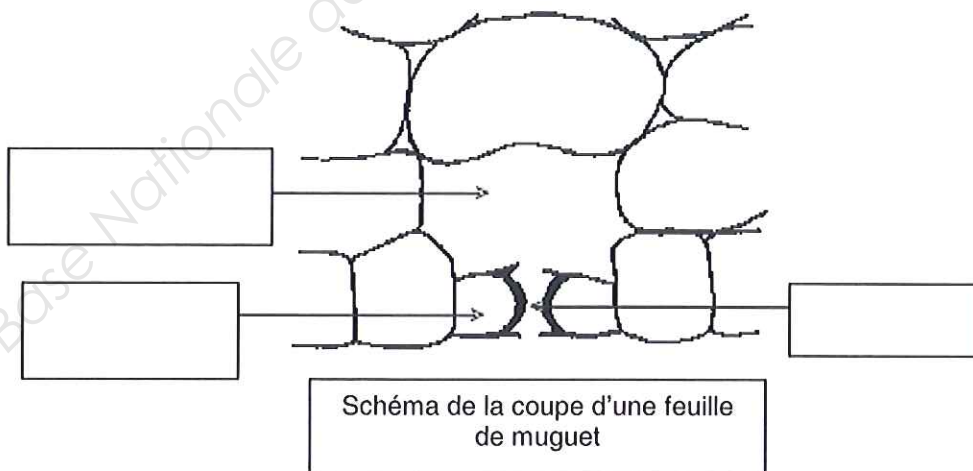
1. Légender le schéma d'une feuille avec les termes suivants :

pétiole, limbe, nervure principale, nervure secondaire 1 point (0,25 x 4)



2. Légender le schéma de l'épiderme en coupe en plaçant les termes donnés ci-dessous. 0,75 point (0,25 x 3)

Termes à placer sur le schéma : ostiole, stomate, chambre sous stomatique



EXAMEN : C.A.P. FLEURISTE	Code :	Session 2012	SUJET DOSSIER 1B
ÉPREUVE : EP1 Pratique professionnelle en atelier de production (Botanique)	Durée : 5h45	Coefficient : 11	Page : 2/5

NE RIEN ÉCRIRE DANS CETTE PARTIE

3. Classer les trois tissus nommés ci-dessous selon leur type. 0,75 point (0,25 x 3)

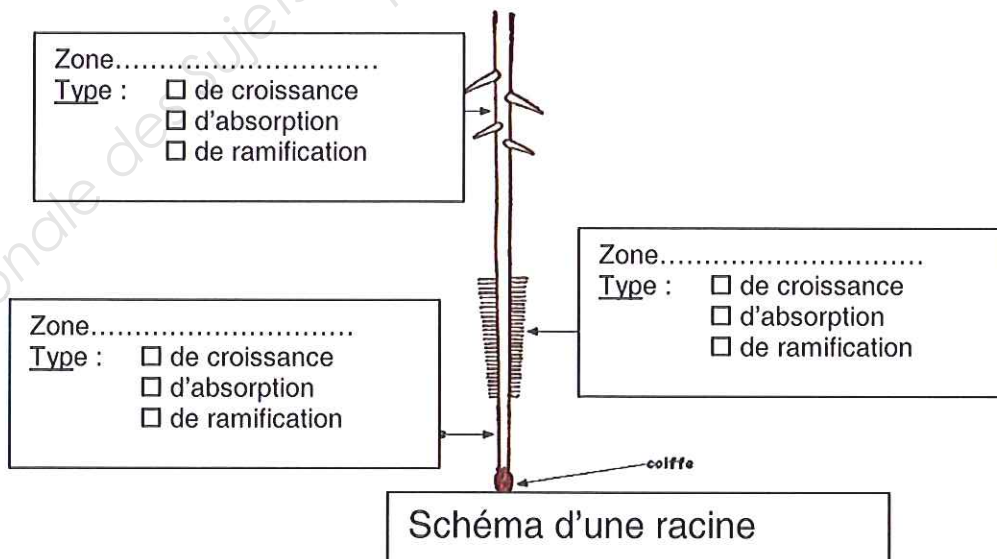
Termes à classer : liège, liber, bois

Tissus conducteurs	Tissus de protection

II. LA RACINE (3 points)

1. Légender le schéma de racine avec les termes suivants et déterminer le type de zone en cochant la case correspondante. 3 points (1 x 3)

Termes à placer sur le schéma : zone pilifère, zone lisse, zone subéreuse



EXAMEN : C.A.P. FLEURISTE	Code :	Session 2012	SUJET DOSSIER 1B
ÉPREUVE : EP1 Pratique professionnelle en atelier de production (Botanique)	Durée : 5h45	Coefficient : 11	Page : 3/5

NE RIEN ÉCRIRE DANS CETTE PARTIE

III. LA TIGE (3,75 points)

1. Retrouver le type de tige à partir des schémas et de la liste donnée
2 points (0,50 x 4)

Liste des types de tiges à replacer dans le tableau : grimpante, montante, rampante, dressée

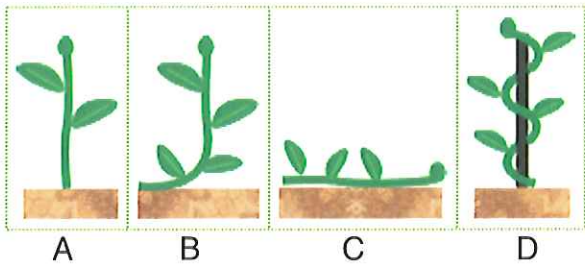


Schéma A	Tige.....
Schéma B	Tige.....
Schéma C	Tige.....
Schéma D	Tige.....

2. Donner la fonction principale de la tige 1,75 point

.....

.....

.....

IV. LA POLLINISATION (1,50 point)

1. Définir la pollinisation anémophile. 0,75 point

.....

.....

.....

2. Définir la pollinisation entomophile. 0,75 point

.....

.....

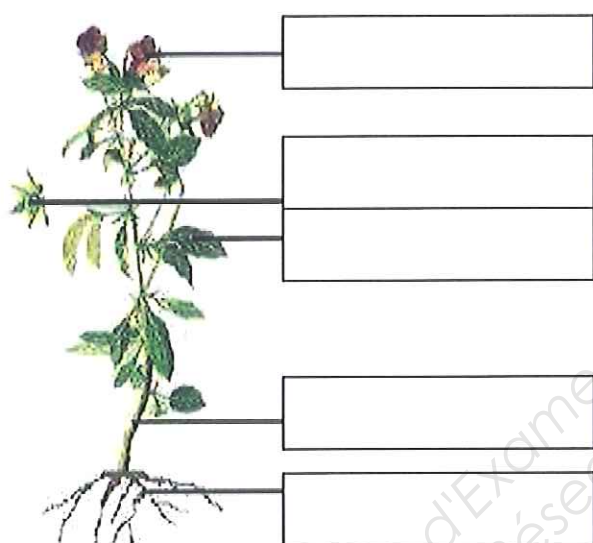
.....

EXAMEN : C.A.P. FLEURISTE	Code :	Session 2012	SUJET DOSSIER 1B
ÉPREUVE : EP1 Pratique professionnelle en atelier de production (Botanique)	Durée : 5h45	Coefficient : 11	Page : 4/5

NE RIEN ÉCRIRE DANS CETTE PARTIE

V. LES DIFFÉRENTS ÉLÉMENTS CONSTITUANT UN VÉGÉTAL (1,25 point) 1,25 point (0,25 x 5)

Nommer les différentes parties constituant un végétal sur la représentation ci-dessous.



EXAMEN : C.A.P. FLEURISTE	Code :	Session 2012	SUJET DOSSIER 1B
ÉPREUVE : EP1 Pratique professionnelle en atelier de production (Botanique)	Durée : 5h45	Coefficient : 11	Page : 5/5

